

## ZNAKI DROGOWE – test do karty rowerowej jednokrotnego wyboru

1. O czym informuje ten znak?



- a) informuje nas że, znajdujemy się na drodze z pierwszeństwem przejazdu
- b) informuje nas że, zbliżamy się do drogi z pierwszeństwem przejazdu
- c) informuje nas że, znajdujemy się na drodze podporządkowanej

2. Co oznacza ten znak:



- a) znak ten oznacza uchylenie działania niektórych zakazów drogowych
- b) znak ten oznacza uchylenie działania wszystkich znaków drogowych
- c) znak ten oznacza uchylenie działania niektórych znaków informacyjnych

3. Ten znak oznacza, że kierujący:



- a) musi skręcić w lewo po minięciu tego znaku
- b) musi skręcić w lewo przed znakiem
- c) może zawrócić

4. Czy ten znak oznacza?




- a) zakaz zatrzymywania
- b) zakaz postoju do 1 minuty
- c) zakaz postoju ponad 1 minutę

5. Jaki to znak informacyjny?



- a) Odcinek jezdni o ruchu dwukierunkowym
- b) Pierwszeństwo dla nadjeżdżających z przeciwka
- c) Pierwszeństwo na zwężonym odcinku jezdni

6. Znak ten:



- a) oznacza, że wjazd na drogę tylko rowerów jednośladowych i dwuśladowych jest zabroniony.
- b) znak ten oznacza, że droga, na której jest on ustawiony jest zamknięta dla ruchu drogowego w obu kierunkach.
- c) oznacza zakaz wjazdu na drogę lub jezdnię jednokierunkową od strony jego umieszczenia.

7. Jaki to znak informacyjny?



- a) Droga z pierwszeństwem przejazdu
- b) Droga jednokierunkowa
- c) Nakaz jazdy prosto

8. Co oznacza ten znak?



d)

- a) zakaz zatrzymywania się
- b) zakaz postoju
- c) zakaz zatrzymywania powyżej 1 minuty

9. Co nakazuje ten znak?



- a) nakazuje zatrzymać się jeśli nie widzę żadnych pojazdów
- b) nakazuje bezwzględnie zatrzymać się
- c) nakazuje zakaz wjazdu

10. O czym ostrzega ten znak?



- a) określa miejsce przejścia przez drogę dzieci
- b) ostrzega o miejscu na drodze często uczęszczanym przez dzieci.
- c) określa miejsce przejścia dla pieszych

11. Ten znak:



- a) ostrzega o niebezpiecznym zakręcie w prawo,
- b) nakazuje jazdę w prawo,
- c) ostrzega o innym niebezpieczeństwie za zakrętem.

12. Te znaki:



- a) ostrzegają o 4 niebezpiecznych zakrętach,
- b) ostrzegają, że pierwszy zakręt jest w prawo, a drugi w lewo,
- c) ostrzegają w sumie o sześciu zakrętach.

13. Który z tych znaków zabrania wjazdu rowerem?

a)



b)



c)



14. Znak ten:



- a) nakazuje jazdę w lewo,
- b) zabrania skręcania w lewo,
- c) nie dotyczy rowerzystów.

15. Znak ten oznacza:



- a) koniec strefy ograniczonego postoju,
- b) drogę z pierwszeństwem przejazdu,
- c) koniec drogi z pierwszeństwem przejazdu.

16. Przedstawiony znak informuje kierującego pojazdem, że:



- a) po wykonaniu manewru skrętu w prawo zawracanie jest zabronione,
- b) po wykonaniu skrętu w prawo kierujący napotka drogę bez przejazdu,
- c) po wykonaniu manewru skrętu w prawo zabronione jest cofanie.

17. Który z tych znaków informuje o drodze dla pieszych?

a)



b)



c)



18. Znak ten zabrania rowerzyście:



- a) jazdy rowerem tylko po jezdni,
- b) jazdy rowerem tylko po poboczu,
- c) jazdy rowerem i po jezdni, i po poboczu.

19. Na drodze, na której obowiązuje przedstawiony znak (zakaz wyprzedzania):



- a) Rowerzysta nie może wyprzedzać innego rowerzysty,
- b) Rowerzysta może wyprzedzać innego rowerzystę,
- c) Rowerzysta może wyprzedzać samochód osobowy.

20. Znak ten oznacza:



- a) drogę dla pieszych,
- b) drogę dla rowerów jednośladowych,
- c) drogę dla motorowerów.

21. Znak ten:



- a) gwarantuje bezpieczne przejście przez jezdnię,
- b) oznacza miejsce przeznaczone do przechodzenia pieszych w poprzek drogi,
- c) zwalnia pieszego z zachowania szczególnej ostrożności.

22. Znak ten oznacza:



- a) drogę przeznaczoną tylko dla osób dorosłych z dzieckiem ,
- b) drogę dla pieszych,
- c) zakaz wstępu dla pieszych.

23. Znak ten umieszczony po prawej stronie drogi oznacza, że:



- a) ruch pieszych zabroniony jest po prawej stronie drogi,
- b) ruch pieszych dozwolony jest po prawej stronie drogi,
- c) zabronione jest kierowanie rowerem po prawej stronie drogi przez rowerzystę.

24. Znak ten:



- a) wskazuje pieszem miejscu przejścia przez jezdnię,
- b) ostrzega pieszego o przejściu dla pieszych,
- c) ostrzega kierującego pojazdem o przejściu dla pieszych.

25. Znak ten oznacza, że:



- a) ruch rowerzystów odbywa się po prawej stronie drogi, a pieszych po lewej,
- b) ruch rowerzystów i pieszych odbywa się na całej powierzchni drogi,
- c) na drodze tej pierwszeństwo posiadają rowerzyści.

26. Jeżeli na drodze obok linii białych znajdują się również linie żółte, to kierujący rowerem jest zobowiązany stosować się:

- a) na drogach nie spotyka się żółtych znaków poziomych
- b) do znaków poziomych (linii) białych przed żółtymi
- c) do znaków poziomych (linii) żółtych przed białymi

27. Kierujący rowerem powinien w kolejności stosować się do:

- a) sygnalizacji świetlnej, poleceń policjanta kierującego ruchem, znaków drogowych
- b) poleceń policjanta kierującego ruchem, sygnalizacji świetlnej, znaków drogowych
- c) poleceń policjanta kierującego ruchem, znaków drogowych, sygnalizacji świetlnej

28. Co oznacza poniższy znak?



- a) informuje o zблиżeniu się do przejazdu kolejowego
- b) ostrzega o zблиżeniu się do przejazdu kolejowego bez zapor
- c) ostrzega o zблиżeniu się do przejazdu kolejowego z zaporami

29. O czym informuje poniższy znak?:



- a) informuje o kierunku jazdy na wprost
- b) informuje o drodze jednokierunkowej
- c) ostrzega kierowcę o wysepce na drodze

30. Co oznacza ten znak?



- a) ostrzega o zблиżeniu się do skrzyżowania dróg
- b) ostrzega kierowcę o skrzyżowaniu dróg równorzędnych
- c) ostrzega o skrzyżowaniu z drogą podporządkowaną występującą po obu stronach

31. O czym ostrzega ten znak:



- a) określa miejsce wypadku drogowego
- b) ostrzega o zблиżeniu się do innego niebezpieczeństwa, nieokreślonego innymi znakami drogowymi.
- c) ostrzega o niebezpiecznym poboczu (miękkim lub obniżonym).

32. Co oznacza ten znak?:



- a) informuje o miejscu wypadku drogowego
- b) informuje o potrzebie udzielania pomocy sanitarnej
- c) informuje o punkcie opatrunkowym

33. Co oznacza ten znak?



- a) nakazuje zwiększyć prędkość
- b) zakazuje jazdę powyżej określonej na znaku prędkości
- c) ogranicza długość pojazdu

34. O czym ostrzega ten znak?



- a) ostrzega o niebezpiecznym skrzyżowaniu
- b) ostrzega o wyłączonych światłach sygnalizacji drogowej
- c) ostrzega o zблиżeniu się do miejsca, w którym ruch drogowy jest kierowany za pomocą sygnalizacji świetlnej

35. Poniższy znak :



- a) oznacza, że wjazd na drogę wózków rowerowych poruszanych siłą mięśni osób prowadzących lub też silnikiem jest zabroniony.
- b) znak ten zakazuje wjazdu motorowerów na drogę. Nie dotyczy on rowerów.
- c) oznacza, że wjazd na drogę rowerów jednośladowych i dwuśladowych jest zabroniony.

36. Znak ten oznacza:



- a) koniec drogi z pierwszeństwem
- b) ustąp pierwszeństwa przejazdu
- c) droga z pierwszeństwem

37. Widząc ten znak kierujący pojazdem wie, że:



- a) musi ustąpić pierwszeństwa przejazdu na zwężeniu dróg
- b) musi zawsze zatrzymać się przed zwężeniem
- c) ma pierwszeństwo przejazdu na zwężeniu dróg, jeśli to zwężenie występuje po lewej stronie

38. O czym ostrzega ten znak?



- a) określa miejsce zakrętu
- b) ostrzega o zbliżaniu się do dwóch następujących po sobie niebezpiecznych zakrętów i pierwszym w prawo
- c) ostrzega o zbliżaniu się do dwóch następujących po sobie niebezpiecznych zakrętów.

39. O czym ostrzega ten znak?



- a) ostrzega o miejscu, w którym wykonywane są roboty drogowe.
- b) ostrzega przed wykopami
- c) ostrzega przed poprzecznym garbie na drodze

40. Co ten znak wskazuje?




- a) zakaz skrętu w prawo
- b) nakaz jazdy w prawo (skręcanie za znakiem)
- c) nakaz jazdy w prawo (skręcanie przed znakiem)

41. O czym informuje ta tabliczka?



- a) tabliczka wskazująca początek zakazu postoju lub zatrzymywania,
- b) tabliczka ta informuje o ruchu skierowanym na sąsiednią jezdnię,
- c) tabliczka ta informuje o nieoczekiwanej zmianie przebiegu drogi wskazanym na tabliczce.

42. Czy to:



- a) słupki wskaźnikowe informujące o zbliżaniu się do robót drogowych
- b) słupki wskaźnikowe informujące o zbliżaniu się do przejazdu kolejowego
- c) słupki wskaźnikowe informujące o zbliżaniu się do skrzyżowania dróg

43. Znaki zawieszane na słupkach to znaki ...

- a) Drogowe
- b) Pionowe
- c) Poziome

44. Znaki malowane na jezdni to znaki ...

- a) Ostrzegawcze
- b) Zakazu
- c) Poziome

45. Jaki kolor dominuje w znakach zakazu

- a) Czerwony
- b) Żółty
- c) Zielony

46. Jaki kolor dominuje w znakach nakazu

- a) Niebieski
- b) Żółty
- c) Czerwony

47. Który znak stanowi wyjątek w znakach zakazu

- a) Zakaz wjazdu
- b) Stop
- c) Zakaz wjazdu rowerem

48. Który znak stanowi wyjątek w znakach informacyjnych

- a) Droga jednokierunkowa
- b) Droga z pierwszeństwem
- c) Policja

49. Który znak stanowi wyjątek w znakach ostrzegawczych

- a) Ustąp pierwszeństwa
- b) Inne niebezpieczeństwo
- c) Sygnały świetlne

50. O czym informuje poniższy znak?:



- a) uwaga na zwierzęta dzikie
- b) uwaga na zwierzęta domowe
- c) uwaga na zwierzęta domowe i dzikie

51. Co ten znak nakazuje:



- a) nakazuje skręcić w lewo
- b) zabrania skręcić w lewo
- c) znak ten nakazuje zawracanie na najbliższym skrzyżowaniu oraz odcinku drogi pomiędzy znakiem a skrzyżowaniem.

52. Co oznacza ten znak?:



- a) ostrzega przed innymi niebezpieczeństwami
- b) droga z pierwszeństwem przejazdu
- c) ustąp pierwszeństwa przejazdu

53. Co oznacza ten znak?



- a) ostrzega o zbliżaniu się do dworca kolejowego
- b) przejazd kolejowy z zaporami
- c) przejazd kolejowy bez zapor

54. Poniższy znak oznacza:



- a) oznacza, że wjazd na drogę rowerów jednośladowych i dwuśladowych jest zabroniony.
- b) znak ten zakazuje wjazdu motorowerów na drogę. Nie dotyczy on rowerów.
- c) oznacza, że wjazd na drogę rowerów dwuśladowych jest zabroniony.

55. O czym informuje ten znak?



- a) informuje nas o zwężeniu drogi
- b) ostrzega nas o prawostronnym zwężeniu drogi
- c) informuje nas o lewostronnym zwężeniu drogi

56. Co to za znak:



- a) oznacza zakaz wjazdu na drogę lub jezdnię jednokierunkową od strony jego umieszczenia.
- b) znak ten oznacza, że droga, na której jest on ustawiony jest zamknięta dla ruchu drogowego w obu kierunkach
- c) znak ten oznacza uchylenie działania niektórych znaków informacyjnych

57. O czym ostrzega ten znak?



- a) określa miejsce niebezpieczne dla rowerzystów
- b) ostrzega o miejscu, w którym przez drogę mogą przejeżdżać rowerzyści.
- c) ostrzega o zbliżaniu się do drogi przeznaczonej wyłącznie dla rowerzystów

58. Po minięciu tego znaku, kierującemu nie wolno:



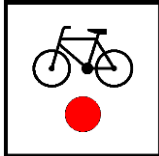
- a) jechać z prędkością niższą, niż wskazana na znaku
- b) jechać od poprzedzającego pojazdu w odległości mniejszej, niż wskazana znakiem
- c) przekraczać prędkości wskazanej na znaku

59. Co nakazuje ten znak?



- a) nakazuje bezwzględnie się zatrzymać w nielicznych przypadkach
- b) nakazuje się zatrzymać przed przejściem dla pieszych
- c) nakazuje bezwzględnie się zatrzymać we wszystkich przypadkach

60. Znak ten oznacza początek lub koniec szlaku rowerowego:



- a) krajowego
- b) międzynarodowego
- c) międzymiastowego

61. Znaki malowane na jezdni to znaki ...

- a) Ostrzegawcze
- b) Zakazu
- c) Poziome

62. Ten znak ostrzega o:



- a) miejscu częstego występowania wypadków drogowych,
- b) przejeździe kolejowym z zaporami
- c) skrzyżowaniu dróg, na którym pierwszeństwo nie jest określone znakami

63. Co oznacza ten znak?



- a) kierujący jest zobowiązany do poruszania się dookoła wysepki, w odpowiednim kierunku
- b) ostrzega o zmianie kierunku jazdy
- c) informuje o zakazie wjazdu

64. O czym informuje ten znak



- a) informuje o dworcu kolejowym
- b) określa miejsce parkowania
- c) określa miejsce przystanku autobusowego

65. Co oznacza ten znak?



- a) dopuszcza warunkowe skręcanie
- b) nakazuje jazdę na wprost i w prawo przed znakiem
- c) nakazuje jazdę na wprost i w prawo na skrzyżowaniu

66. Co oznacza ten znak?



- a) ostrzega o zbliżającym innym niebezpieczeństwie
- b) określa miejsce drogi o ruchu okrężnym
- c) ostrzega o zbliżaniu się do skrzyżowania o ruchu okrężnym

67. O czym ostrzega ten znak?



- a) ostrzega przed przejazdem tramwajowym
- b) ostrzega przed przejazdem kolejowym
- c) ostrzega przed przejazdem trolejbusowym

68. O czym informuje ten znak?



- a) zakaz wjazdu rowerami
- b) początek drogi dla rowerów
- c) koniec drogi dla rowerów

69. Co zakazuje ten znak?



- a) zakaz skrętu w lewo
- b) zakaz zawracania
- c) koniec zakazu zawracania

70. Jaki to znak informacyjny?



- a) Autostrada
- b) Droga ekspresowa
- c) Droga szybkiego ruchu

71. Jaki to znak informacyjny?



- a) Przejście dla pieszych
- b) Piesi
- c) Droga dla pieszych

72. Jaki to znak informacyjny?



- a) Parking
- b) Policja
- c) Pole biwakowe

73. Jaki to znak informacyjny?



- a) Schody ruchome w górę
- b) Przejście nadziemne
- c) Schody ruchome w dół

74. Jaki to znak informacyjny?



- a) Obszar zabudowany
- b) Zabytki
- c) Strefa zamieszkania

75. Jaki to znak informacyjny?



- a) Droga ekspresowa
- b) Droga szybkiego ruchu
- c) Autostrada

76. Co oznacza ten znak informacyjny?



- a) Obszar zabudowany
- b) Osiedle
- c) Strefa zamieszkania



77. Jaki to znak informacyjny?



- a) Pogotowie
- b) Punkt opatrunkowy
- c) Szpital

78. Widząc ten znak rowerzysta wie, że dojeżdża do:



- a) miejsca, gdzie obowiązuje zakaz wymijania,
- b) odcinka drogi o ruchu jednokierunkowym.
- c) zwężenia dróg, które występuje po obu stronach drogi,

79. Te znaki:



- a) nakazują jazdę prosto,
- b) wskazują główną drogę do najbliższej miejscowości,
- c) ostrzegają o skrzyżowaniu z drogą podporządkowaną, wskazując układ dróg na skrzyżowaniu

80. Ten znak:



- a) zobowiązuje do zwiększenia prędkości z powodu nierównej jezdni,
- b) ostrzega o koleinach,
- c) ostrzega o poprzecznej nierówności jezdni.

81. Ten znak:



- a) na najbliższym skrzyżowaniu nakazuje jazdę prosto,
- b) ostrzega przed skrzyżowaniem z drogą podporządkowaną występującą po prawej stronie,
- c) ostrzega przed skrzyżowaniem z jednokierunkową drogą podporządkowaną, której wlot jest po prawej stronie.

82. Rowerzysta widząc ten znak jest obowiązany:



- a) do zatrzymania się przed przejazdem kolejowym w każdym przypadku,
- b) do bezwzględnego zatrzymania się przed przejazdem w czasie mgły lub zmniejszonej przejrzystości powietrza,
- c) do prowadzenia roweru z taką prędkością, aby mógł się zatrzymać w bezpiecznym miejscu, gdy nadjeżdża pojazd szynowy.

83. Po minięciu tego znaku rowerzysta może skręcić w prawo:



- a) nie,
- b) tak,
- c) tak, ale tylko w określonych godzinach.

84. Który znak wskazuje miejsce zatrzymania pojazdu w celu ustąpienia pierwszeństwa wynikającego ze znaku pionowego A - 7 "ustąp pierwszeństwa":



(A)

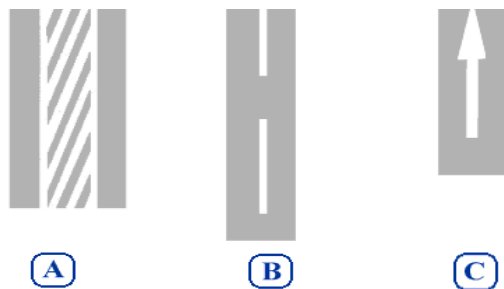


(B)



(C)

85. Który znak oznacza, powierzchnię drogi, na którą wjazd i zatrzymanie są zabronione:



86. Który ze znaków zabrania wjazdu rowerem



87. Który ze znaków zakazuje jazdy w lewo:



88. Który ze znaków należy do grupy znaków informacyjnych:



89. Znak ten oznacza:



- a) Odcinek jezdni o ruchu dwukierunkowym
- b) Pierwszeństwo przejazdu dla nadjeżdżających z przeciwka
- c) Zakaz wjazdu od strony ustawienia znaku

90. Który z sygnałów dawanych przez policjanta oznacza „jedź, idź”

a)



b)



c)



91. Który z sygnałów dawanych przez policjanta oznacza „stój”

a)



b)



c)



92. Który z sygnałów dawanych przez policjanta oznacza „uwaga”

a)



b)



c)



93. Który ze znaków widniejących na ilustracji oznacza początek zakazu postoju:



A



B



C

94. Na tak oznakowanej jezdni, bez narysowanych znaków poziomych, zatrzymasz się:




a) 5 m przed tym znakiem;

b) Przy tym znaku

c) W takim miejscu, aby móc zaobserwować drogę poprzeczną

95. Po tym sygnale sygnalizator wyświetli:

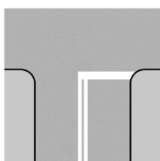


a) Sygnał zielony

b) Sygnał czerwony

c) Sygnał żółty i czerwony

96. Ten znak :



a) Wskazuje miejsce zatrzymania pojazdu

b) Zezwala na kontynuowanie jazdy bez zatrzymania pojazdu

c) Zezwala na zatrzymanie pojazdu za linią

97. Znak ten uprzedza o zbliżaniu się do:




- a) Drogi z pierwszeństwem przejazdu
- b) Drogi podporządkowanej
- c) Linii warunkowego zatrzymania

98. Widząc taki zestaw znaków, rowerzysta wie, że:



- a) mogą jechać jedynie rowery wielośladowe
- b) zakaz nie dotyczy rowerów jedno i wielośladowych
- c) może jechać dalej, pomimo, że ulica jest z tej strony zamknięta dla ruchu dalej

99. Po tym sygnale sygnalizator wyświetli:



- a) Sygnał czerwony i żółty
- b) Sygnał żółty
- c) Sygnał zielony

100. Widząc ten znak kierujący rowerem:



- a) Może wjechać na jezdnię za tym znakiem
- b) Nie może wjechać na jezdnię za tym znakiem
- c) Musi się zatrzymać i przepuścić nadjeżdżający motorower

Odpowiedzi:

- |       |       |       |
|-------|-------|-------|
| 1. A  | 35. A | 69. B |
| 2. A  | 36. C | 70. B |
| 3. A  | 37. A | 71. A |
| 4. C  | 38. B | 72. A |
| 5. C  | 39. A | 73. A |
| 6. B  | 40. C | 74. A |
| 7. B  | 41. C | 75. C |
| 8. A  | 42. B | 76. C |
| 9. B  | 43. B | 77. C |
| 10. B | 44. C | 78. C |
| 11. A | 45. A | 79. C |
| 12. A | 46. A | 80. C |
| 13. C | 47. B | 81. B |
| 14. B | 48. B | 82. C |
| 15. C | 49. A | 83. A |
| 16. B | 50. A | 84. A |
| 17. C | 51. B | 85. A |
| 18. C | 52. C | 86. A |
| 19. B | 53. C | 87. C |
| 20. B | 54. A | 88. B |
| 21. B | 55. B | 89. B |
| 22. B | 56. A | 90. C |
| 23. A | 57. B | 91. B |
| 24. C | 58. A | 92. A |
| 25. B | 59. C | 93. A |
| 26. C | 60. A | 94. C |
| 27. B | 61. C | 95. B |
| 28. C | 62. C | 96. A |
| 29. A | 63. A | 97. A |
| 30. C | 64. C | 98. C |
| 31. B | 65. C | 99. A |
| 32. C | 66. C | 100.A |
| 33. B | 67. A |       |
| 34. C | 68. C |       |